

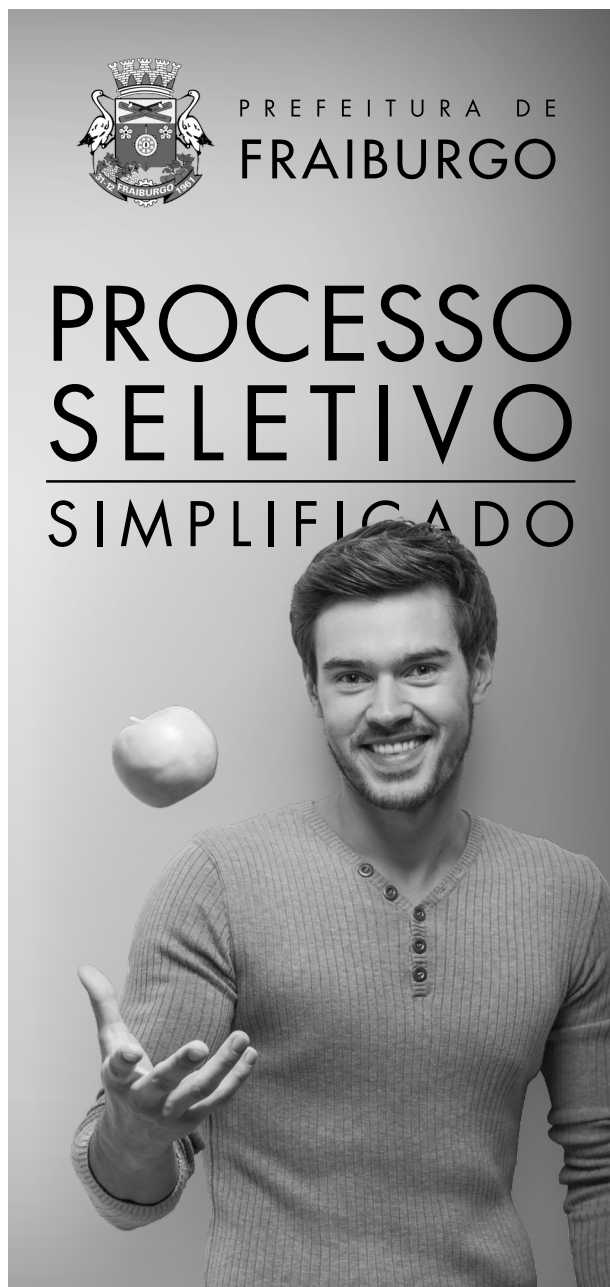
CADERNO DE PROVA

Município de Fraiburgo

Processos Seletivo • Edital 003/2018

<http://2018seletivofraiburgo.fepese.org.br>

F07 Auxiliar de Alimentação e Nutrição



PREFEITURA DE
FRAIBURGO

PROCESSO
SELETIVO
SIMPLIFICADO

Instruções



Confira o número que você obteve no ato da inscrição com o que está indicado no cartão-resposta.

* A duração da prova inclui o tempo para o preenchimento do cartão-resposta.

Para fazer a prova você usará:

- este **caderno de prova**.
- um **cartão-resposta** que contém o seu nome, número de inscrição e espaço para assinatura.

Verifique, no caderno de prova, se:

- faltam folhas e a sequência de questões está correta.
- há imperfeições gráficas que possam causar dúvidas.

Comunique imediatamente ao fiscal qualquer irregularidade!

Atenção!

- Não é permitido qualquer tipo de consulta durante a realização da prova.
- Para cada questão são apresentadas 5 alternativas diferentes de respostas (a, b, c, d, e). Apenas uma delas constitui a resposta correta em relação ao enunciado da questão.
- A interpretação das questões é parte integrante da prova, não sendo permitidas perguntas aos fiscais.
- Não destaque folhas da prova.

Após terminar a prova, entregue ao fiscal o caderno de prova completo e o cartão-resposta devidamente preenchido e assinado.



6 de maio



25 questões



13 às 16h



4h de duração*

Língua Portuguesa

5 questões

1. Assinale a alternativa em que a divisão silábica da palavra está **correta**.

- a. () ritmo: ri-t-mo
- b. () errada: e-rra-da
- c. () sujeito: su-je-i-to
- d. (X) sucesso: su-ces-so
- e. () abóbora: a-bó-bora

2. Assinale a alternativa em que **todas** as palavras são femininas.

- a. () trema • fé • reunião
- b. (X) cal • missa • felicidade
- c. () fel • amizade • botijão
- d. () camisa • problema • dó
- e. () ônibus • ponte • questão

3. O aumentativo de **bala** é:

- a. (X) balaço.
- b. () balinha.
- c. () balança.
- d. () balalaça.
- e. () balazinha.

4. A palavra **vara** é o coletivo de:

- a. () lenha.
- b. () ramos.
- c. () roupas.
- d. () ovelhas.
- e. (X) porcos.

5. Assinale o número **correto** de **substantivos próprios** na frase abaixo:

Raquel, Catarina, Helena e sua avó viajaram para Florianópolis.

- a. () 2
- b. () 3
- c. (X) 4
- d. () 5
- e. () 6

Aspectos do Município

5 questões

6. Assinale a alternativa que indica o clima predominante na região de Fraiburgo.

- a. () Semiárido
- b. () Equatorial
- c. () Mediterrâneo
- d. () Subtropical
- e. (X) Temperado

7. Na localidade de Taquaruçu, hoje pertencente a Fraiburgo, ocorreu um dos episódios mais sangrentos da:

- a. (X) Guerra do Contestado.
- b. () Guerra Santa dos Monges.
- c. () Revolução Farroupilha.
- d. () Revolução Federalista.
- e. () Revolução de 1930.

8. Assinale a alternativa que indica a data em que o Município de Fraiburgo foi instituído oficialmente.

- a. () 19 de outubro de 1919
- b. () 21 de dezembro de 1961
- c. (X) 31 de dezembro de 1961
- d. () 20 de junho de 2005
- e. () 7 de setembro de 2007

9. Assinale a alternativa em que todos os rios relacionados correm no Município de Fraiburgo.

- a. () Rio Mansinho • Rio Iguaçu • Rio Negro • Rio Tigre • Rio Taquaruçu
- b. () Rio Mansinho • Rio Timbó • Rio Verde • Rio Tubarão • Rio Taquaruçu
- c. () Rio Mansinho • Rio Jangada • Rio Verde • Rio Tigre • Rio Urussanga
- d. (X) Rio Mansinho • Rio Papuã • Rio Verde • Rio Tigre • Rio Taquaruçu
- e. () Rio Mansinho • Rio Itapocu • Rio Verde • Rio Mampituba • Rio Taquaruçu

10. Entre os meses de janeiro a abril, a população de Fraiburgo aumenta consideravelmente; são pessoas vindas de outras cidades e mesmo de outros Estados que aqui chegam.

Assinale a alternativa que indica a razão desse fluxo de pessoas.

- a. () Vêm participar da Festa da Maçã.
- b. (X) Buscam trabalho durante a colheita da maçã.
- c. () Buscam trabalho durante a colheita da cana.
- d. () Buscam emprego na indústria metal mecânica.
- e. () Vêm participar das festas que acontecem no chamado "Circuito do Contestado".

Conhecimentos Específicos

15 questões

11. No tocante à limpeza no ambiente de trabalho, é importante para manutenção de um ambiente limpo e seguro que:

- a. () lixeiras não sejam limpas.
- b. () corrimãos e maçanetas não sejam limpos e higienizados.
- c. () a lixeira que armazena lixo contaminado e orgânico permaneça sempre aberta.
- d. () a lixeira que armazena lixo orgânico e contaminado não tenha tampa nenhuma.
- e. (X) a lixeira que armazena lixo orgânico esteja sempre fechada.

12. Para manter a segurança no ambiente de trabalho deve-se:

- a. () usar ferramentas com defeito.
- b. () fazer seu trabalho sem atenção.
- c. () usar máquinas inadequadas para o serviço.
- d. (X) utilizar equipamentos de proteção individual.
- e. () não se atentar para prazo de validade de alimentos e produtos.

13. Assinale a alternativa que indica o nome **correto** do utensílio ilustrado ao lado.

- a. () medidor de líquidos
- b. (X) batedor manual
- c. () espátula
- d. () peneira
- e. () concha



14. A manutenção da limpeza e higiene é um ponto importante para a manutenção da segurança no ambiente de trabalho.

E para que se mantenha, na cozinha, o local onde são preparados os alimentos, devidamente limpo e higienizado, deve-se limpá-lo com que frequência?

- a. (X) diariamente
- b. () semanalmente
- c. () mensalmente
- d. () bimestralmente
- e. () anualmente

15. Assinale a alternativa que exemplifica um Equipamento de Proteção Individual importante no manuseio de lixo.

- a. () boné
- b. () capacete
- c. (X) luva de proteção
- d. () sapato de dedos de grife
- e. () telefone celular


16. A imagem ilustrada demonstra que devemos tomar cuidado com:

- a. material comburente.
- b. lixo orgânico.
- c. lixo reciclável.
- d. cabelos soltos.
- e. cabelos compridos e soltos.



17. Qual o significado da imagem ilustrada ao lado?

- a. cuidado, buraco na via
- b. atenção, raios e trovões
- c. atenção, produto tóxico
- d. risco de choque elétrico
- e. risco de queda



18. Até que chegue o socorro adequado, qual a atitude para os primeiros socorros em caso de queimadura de primeiro grau?

- a. Dar tapas fortes em cima do ferimento para a pessoa esquecer a dor da queimadura.
- b. Sair de fininho para não ter que se incomodar, prestando socorro.
- c. Jogar bastante álcool gel em cima da queimadura.
- d. Colocar uma camada grossa de pasta de dente em cima da queimadura e sair gritando.
- e. Resfriar o local da queimadura com água fria, limpa ou água corrente e aguardar o socorro adequado.

19. Até que chegue o socorro adequado, qual a atitude para os primeiros socorros em caso de uma pessoa estar levando um choque elétrico?

- a. Dar um chute na vítima com os pés descalços.
- b. Pegar a vítima pela cabeça e puxar com força.
- c. Manter a calma e procurar onde está a fonte da energia para desligá-la imediatamente.
- d. Sair do local e fingir que não viu nada para não se incomodar.
- e. Gritar e pegar a vítima pela mão imediatamente e puxar com força.

20. Qual a atitude adequada a ser tomada para manter a segurança no ambiente de trabalho, ao se deparar com um fio desencapado e em curto-circuito?

- a. Aguardar para ver o que irá acontecer.
- b. Isolar completamente a área, procurar onde está a fonte da energia para desligá-la imediatamente.
- c. Jogar nele um balde de água imediatamente.
- d. Sair do local e fingir que não viu nada para não se incomodar.
- e. Pisar em cima do curto-circuito com os pés descalços.


21. Para prevenção de doenças contagiosas é importante:

- a. lavar sempre as mãos.
- b. lavar as mãos somente ao chegar no trabalho.
- c. lavar as mãos uma vez ao dia, quando sair do trabalho.
- d. não lavar as mãos após manusear o lixo.
- e. manter as unhas compridas e lavar as mãos uma vez ao dia.

22. Para a prevenção de acidentes de trabalho, é importante:

- a. Utilizar máquinas e ferramentas com defeitos.
- b. Usar ferramentas de baixa qualidade e origem duvidosa.
- c. Guardar em local apropriado as ferramentas e máquinas após o uso.
- d. Utilizar ferramentas e máquinas que não sejam adequadas ao serviço que irá realizar.
- e. Não realizar manutenção das máquinas e ferramentas.

23. Ao se deparar com a placa com a imagem ilustrada ao lado, devemos ter cuidado com:



- a. () lamaçal.
- b. () alta tensão.
- c. () areia movediça.
- d. (X) piso escorregadio.
- e. () plantas carnívoras.

24. Ao se deparar com placa com a imagem ilustrada ao lado, devemos ter cuidado com:



- a. () produto perecível.
- b. (X) produto tóxico.
- c. () produto explosivo.
- d. () material reciclável.
- e. () material contaminante.

25. Para manter uma alimentação saudável e balanceada deve-se:

- a. () comer muita fritura e doces todos os dias.
- b. () comer somente doces e refrigerantes todos os dias.
- c. () fazer jejum nos dias ímpares e comer somente carboidratos nos dias pares.
- d. () comer somente uma vez por dia e excluir frutas, verduras e legumes da dieta.
- e. (X) ter uma boa alimentação desde criança, comendo frutas, verduras e legumes regularmente.

Coluna
em Branco.
(rascunho)

GRADE DE RESPOSTAS


Utilize a grade ao lado para anotar as suas respostas.

Não destaque esta folha. Ao entregar sua prova, o fiscal irá destacar e entregar esta grade de respostas que você poderá levar para posterior conferência.



1	
2	
3	
4	
5	
6	
7	
8	
9	
10	
11	
12	
13	
14	
15	

16	
17	
18	
19	
20	
21	
22	
23	
24	
25	



FEPESE CONCURSOS



**Fundação de
Estudos e Pesquisas
Sócio-econômicas**

Campus Universitário • UFSC
88040-900 • Florianópolis • SC

Fone/Fax: (48) 3953-1000
<http://www.fepese.org.br>